

ESERCIZI 03/04

Esercizio 10 : $\lim_{(x,y) \rightarrow (0,0)} \left(\log(x^2+y^2) + \arctan\left(\frac{y}{|x|+|y|}\right) \right)$

quando $(x,y) \rightarrow (0,0)$ entrambe x e y tendono a 0,
quindi ^{anche} $x^2+y^2 \rightarrow 0$, e $\log(x^2+y^2) = \log(t) \rightarrow -\infty$

$\frac{y}{|x|+|y|}$ da' una forma indeterminata $\frac{0}{0}$
 \uparrow
 $t = x^2+y^2$
con $t \rightarrow 0$

(e il limite di questa espressione dipende da come ci si avvicina a $(0,0)$).

però \arctan (qualsiasi cosa) è una funzione limitata (tra $-\frac{\pi}{2}$ e $\frac{\pi}{2}$), quindi la somma

$$\log(x^2+y^2) + \arctan(\text{roba})$$

tenderà a $-\infty$.

Formalmente, notiamo che

$$\underbrace{\log(x^2+y^2) - \frac{\pi}{2}}_{-\infty - \frac{\pi}{2} = -\infty} \leq \log(x^2+y^2) + \arctan\left(\frac{y}{|x|+|y|}\right) \leq \underbrace{\log(x^2+y^2) + \frac{\pi}{2}}_{-\infty + \frac{\pi}{2} = -\infty}$$

quindi per il teorema dei carabinieri, abbiamo

$$\lim_{(x,y) \rightarrow (0,0)} \left(\log(x^2+y^2) + \arctan\left(\frac{y}{|x|+|y|}\right) \right) = -\infty$$

Domanda: e se non ci fosse stato \arctan ?

ora guardiamo $\log(x^2+y^2) + \frac{y}{|x|+|y|}$

$$\left| \frac{y}{|x|+|y|} \right| \leq 1 \iff |y| \leq |x| + |y|$$

vero perché $|x| \geq 0$.

$(x,y) \neq (0,0)$

Quindi si applica lo stesso discorso.

(Se invece di $\log(x^2+y^2)$ ci fosse un'espressione che ammette limite finito (ad esempio x^2+y^2), allora il limite non esisterebbe!)

(se anche dentro \arctan ci fosse stata una funzione non limitata, ad esempio $e^{\frac{1}{x^2+y^2}}$, il discorso di sopra funzionava lo stesso)

Esercizio 9

$$\lim_{(x,y) \rightarrow (0,0)} \frac{x^4 - y^2}{x^2 + y^2} = ?$$

Una delle prime cose da provare è fare il limite lungo le rette passanti per $(0,0)$, cioè sostituire

$y = mx$ per un qualche $m \in \mathbb{R}$. (esclude l'asse y ,
ma va bene...)

La funzione diventa

$$\frac{x^4 - m^2 x^2}{x^2 + m^2 x^2} = \frac{x^2(x^2 - m^2)}{x^2(1 + m^2)} =$$
$$= \frac{x^2 - m^2}{1 + m^2} \xrightarrow{x \rightarrow 0} \frac{-m^2}{1 + m^2}$$

il limite dipende da m , quindi

il limite "in due variabili" non esiste.

Si può anche usare il metodo delle coordinate polari.

$x = \rho \cos \theta$, $y = \rho \sin \theta$, e la funzione diventa

$$f(\theta, \rho) = \frac{\rho^4 \cos^4 \theta - \rho^2 \sin^2 \theta}{\rho^2} = \underbrace{\rho^2 \cos^4 \theta - \sin^2 \theta}_{\substack{\downarrow \rho \rightarrow 0 \\ -\sin^2 \theta}}$$

e il limite dipende da $\theta \Rightarrow$ il limite "in due variabili" non esiste.

Esercizio 7

$$\gamma(t) = \left(\sqrt{2} \cos \frac{t}{2}, \sqrt{2} \sin \frac{t}{2} \right)$$

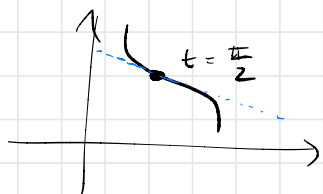
retta tangente nel punto corrispondente a $t = \frac{\pi}{2}$.

(il sostegno di γ è la circonferenza di centro $(0,0)$ e raggio $\sqrt{2}$)

Il punto del sostegno di γ corrispondente a $t = \frac{\pi}{2}$

ha coordinate $\gamma\left(\frac{\pi}{2}\right) = \left(\sqrt{2} \cos \frac{\pi}{4}, \sqrt{2} \sin \frac{\pi}{4} \right) =$

$$= \left(\sqrt{2} \cdot \frac{\sqrt{2}}{2}, \sqrt{2} \cdot \frac{\sqrt{2}}{2} \right) = (1, 1)$$



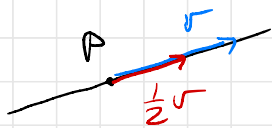
Il vettore direzione della
retta tangente a γ nel punto t

$$e' \quad \dot{\gamma}(t) = \left(x'(t), y'(t) \right) = \left(\sqrt{2} \cdot \frac{1}{2} \cdot (-\sin \frac{t}{2}), \sqrt{2} \cdot \frac{1}{2} \cdot \cos \frac{t}{2} \right)$$

↑
per la
nostra
 $\gamma(t)$

Quindi in $t = \frac{\pi}{2}$ trovo $\dot{\gamma}\left(\frac{\pi}{2}\right) = \left(\frac{\sqrt{2}}{2} \cdot (-\sin \frac{\pi}{4}), \frac{\sqrt{2}}{2} \cdot \cos \frac{\pi}{4} \right)$

$$= \left(\frac{\sqrt{2}}{2} \cdot \left(-\frac{\sqrt{2}}{2}\right), \frac{\sqrt{2}}{2} \cdot \frac{\sqrt{2}}{2} \right)$$
$$= \left(-\frac{1}{2}, \frac{1}{2} \right).$$



il vettore direzione si può
riscalare, quindi posso prendere
 $(-1, 1)$

La retta passante per il punto $(1, 1)$ e con vettore
direzione $(-1, 1)$.

Equazioni parametriche

$$\begin{cases} x = 1 + s \cdot (-1) \\ y = 1 + s \cdot (1) \end{cases}$$

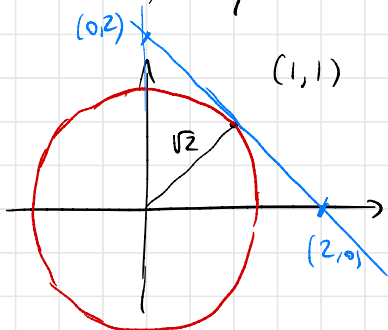
$s \in \mathbb{R}$

Per trovare una equazione cartesiana, elimino s
dal sistema: $x = 1 - s \Rightarrow s = 1 - x$

e sostituisco nella seconda equazione

$$y = 1 + s = 1 + (1 - x) = 2 - x$$

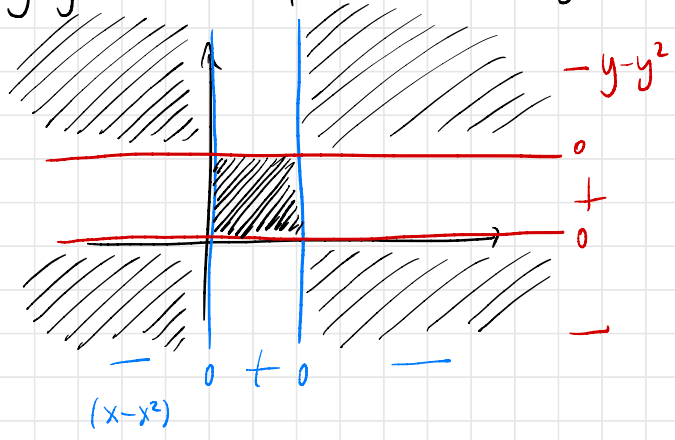
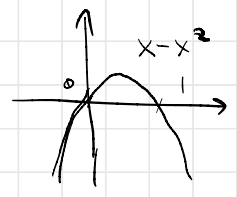
quindi l'eq. cartesiana è $x + y = 2$.



Esercizio 1 : $\{ (x,y) \in \mathbb{R}^2 \mid (x-x^2)(y-y^2) > 0 \}$

$x-x^2 > 0$ quando $0 < x < 1$

$y-y^2 > 0$ quando $0 < y < 1$

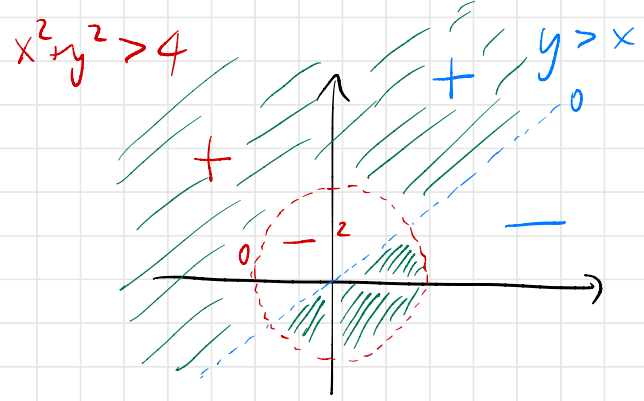


(bordo escluso)

Esercizio 2 : $\{ (x,y) \in \mathbb{R}^2 \mid (x^2+y^2-4)(y-x) > 0 \}$

Capire come sono fatti gli insiemi delle sel di

$x^2+y^2-4 > 0$ e $y-x > 0$

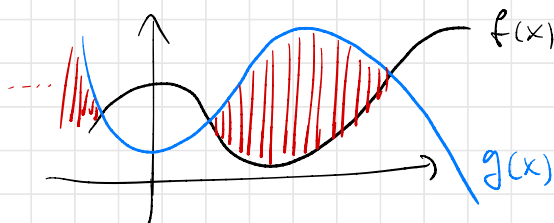


Esercizio 3: $\{(x,y) \in \mathbb{R}^2 \mid |x-1| \leq y \leq 2-|x-2|\}$

$$\{(x,y) \in \mathbb{R}^2 \mid f(x) \leq y \leq g(x)\}$$

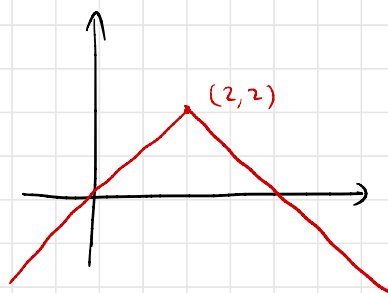
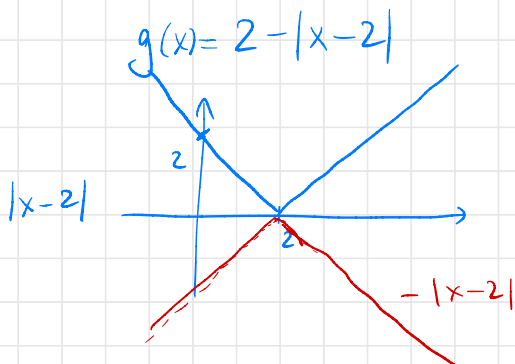
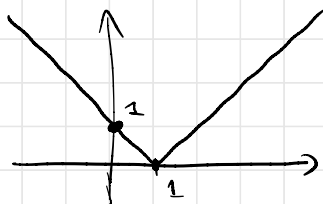
$$\left(\begin{array}{l} f(x) = |x-1| \\ g(x) = 2-|x-2| \end{array} \right)$$

Se disegniamo i grafici di $f(x)$ e $g(x)$, per la regione si vede facilmente

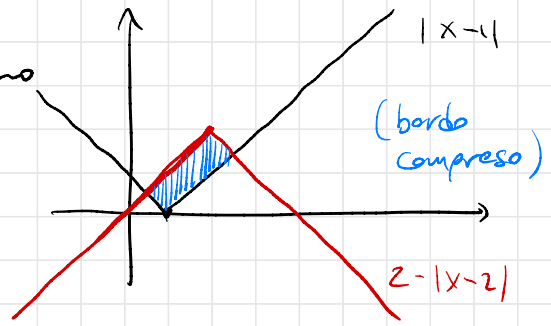


Quindi disegniamo i grafici.

$$f(x) = |x-1|$$



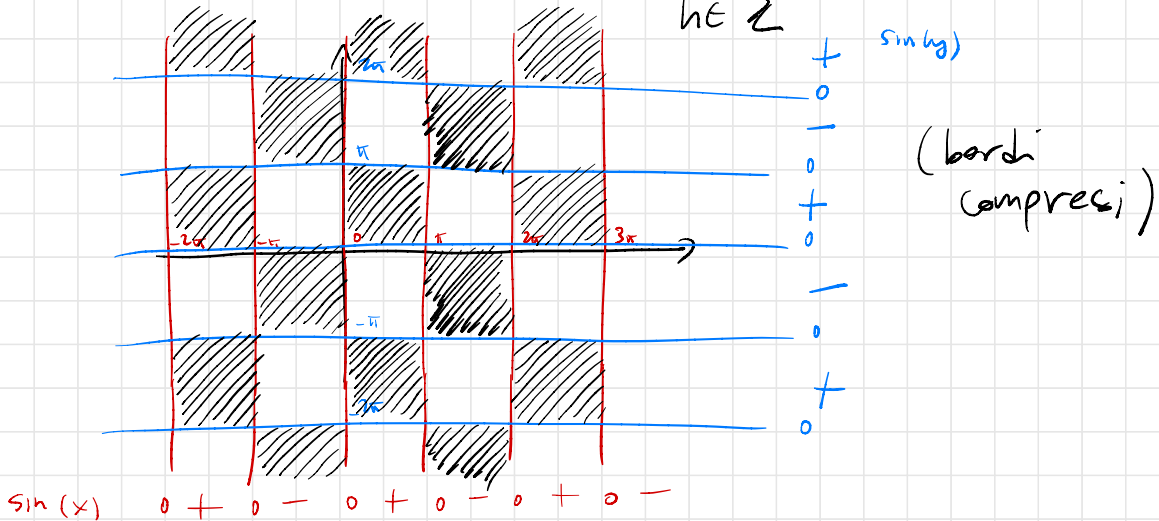
Multimodali sullo stesso piano



Esercizio 4 $\{(x,y) \in \mathbb{R}^2 \mid (\sin x)(\sin y) \geq 0\}$

$\sin x \geq 0$ per $2k\pi \leq x \leq 2k\pi + \pi$
 $k \in \mathbb{Z}$

$\sin y \geq 0$ per $2h\pi \leq y \leq 2h\pi + \pi$
 $h \in \mathbb{Z}$



Esercizio 5 $\{(x,y) \in \mathbb{R}^2 \mid \sin(x^2+y^2-1) > 0\}$

$$\sin(t) > 0 \quad \text{se} \quad 2k\pi < t < 2k\pi + \pi$$

$k \in \mathbb{Z}$

$$\text{quindi} \quad \sin(x^2 + y^2 - 1) > 0 \quad \text{se} \quad 2k\pi < x^2 + y^2 - 1 < 2k\pi + \pi$$

$$x^2 + y^2 > 2k\pi + 1$$

individua l'area
esterna alla circonferenza.

$$x^2 + y^2 - 1 = 2k\pi$$

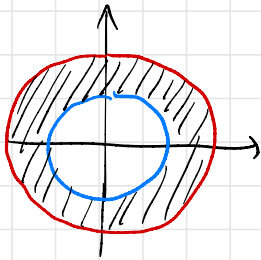
$$x^2 + y^2 = 2k\pi + 1$$

definisce una circonferenza
di raggio $\sqrt{2k\pi + 1}$ e centro $(0,0)$
(supponendo che $2k\pi + 1 \geq 0$!)

$$x^2 + y^2 < 2k\pi + \pi + 1$$

descrive l'area

interna alla circonferenza di raggio $\sqrt{2k\pi + \pi + 1}$



(bordo escluso).

Annunziando $k \in \mathbb{Z}$ (con $2k\pi + 1 \geq 0$)

entrambi i raggi aumentano

\Rightarrow ho infinite corone circolari.

Esercizio 6: \checkmark che cos'è
il sostegno di $f(t) = (t^2, 2t^2)$
 $t \in [0, 1]$

È un segmento. Per trovare l'equazione
cartesiana, si può provare a "eliminare

il parametro " $\left\{ \begin{array}{l} x = t^2 \\ y = 2t^2 \end{array} \right.$

segue che $y = 2t^2 = 2x$, e $y = 2x$ descrive una retta.

Dato che $t \in [0, 1]$, abbiamo un segmento.

(era uguale se avevamo $\gamma(t) = (e^t, 2e^t)$

oppure anche $\gamma(t) = (f(t), 2f(t))$

con $f(t)$ continua)

Cosa sono

Esercizio 8: gli insiemi di livello di $f(x, y) = \frac{3y}{x}$!

L'insieme di livello "a quota k " è dato dall'equazione

$$\frac{3y}{x} = k, \text{ cioè } 3y = kx \Rightarrow y = \left(\frac{k}{3}\right)x$$

retta privata di un punto perché $x \neq 0$.